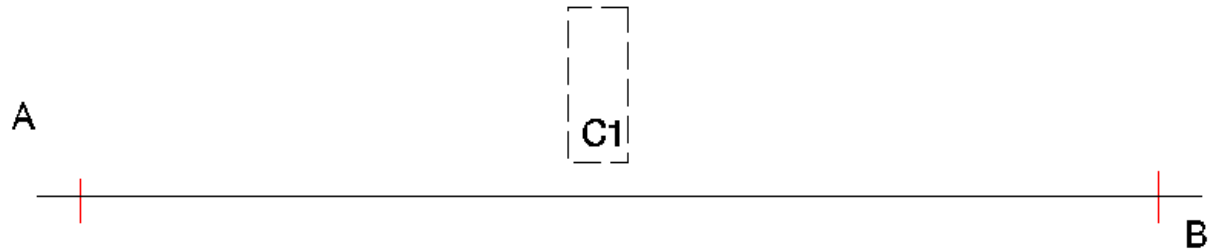
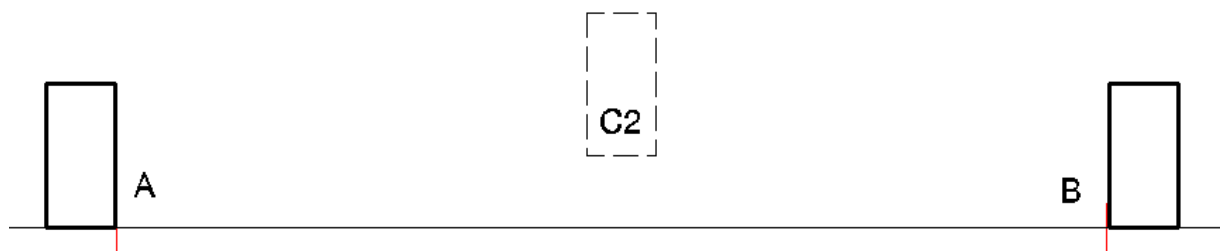


TD répartitions de chevrons

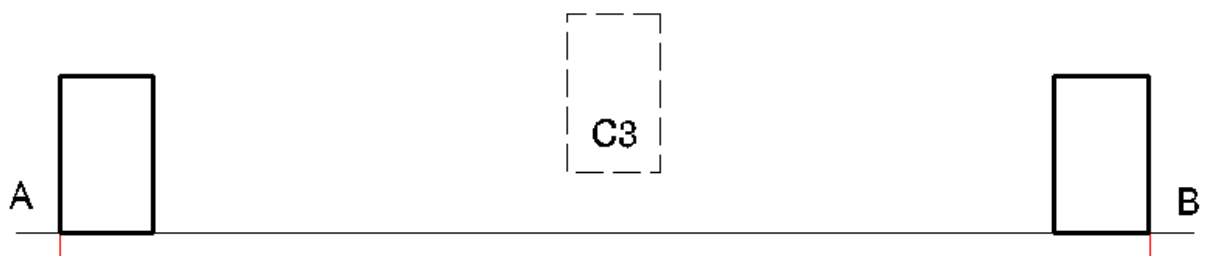
Exercice N°1 - Répartir 3 chevrons C1 entre A et B



Exercice N°2 - Répartir 2 chevrons C2 entre A et B



Exercice N°3 - Répartir 3 chevrons C3 entre A et B



Pour répartir un ou plusieurs chevrons à intervalles réguliers entre A et B, je porte, à gauche de A, une largeur de chevron et j'obtiens le point O, depuis O, je trace une oblique O X.

Je porte sur cette oblique autant de points à écartement régulier que d'intervalles désirés.

Du dernier point je rejoins B. Depuis les autres point, je mène des parallèles à cette droite qui coupent A B.

Je porte, à droite de ces intersections sur A B, la largeur de mes chevrons.